

## MINULOST A SOUČASNOST MĚSTA JEVÍČKA

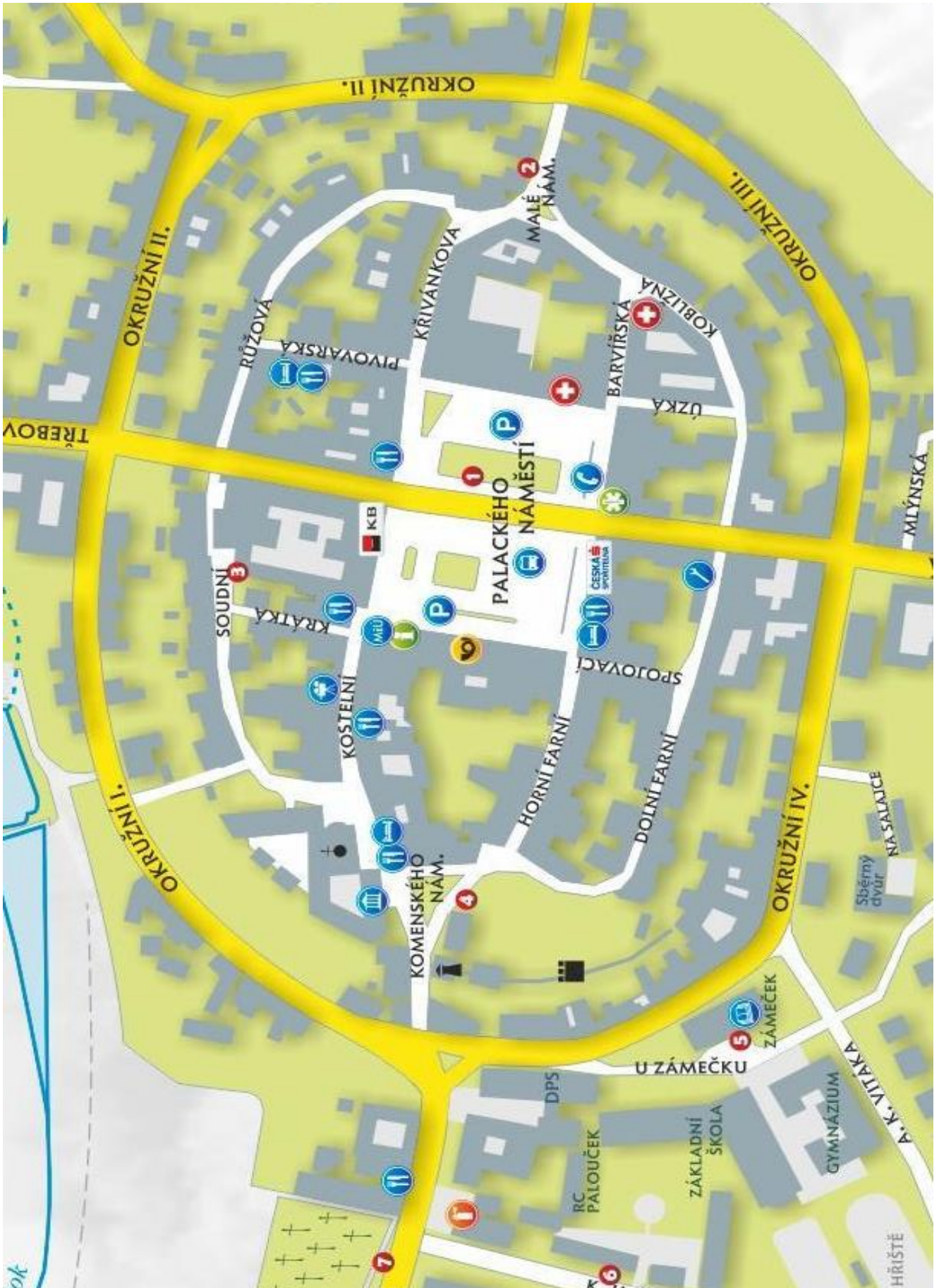
### POVĚST O VZNIKU JEVÍČKA

Psal se rok 1258 a českým zemím vládl král, který se jmenoval Přemysl Otakar II. Protože potřeboval mít dohled nad svými zeměmi, projížděl se po krajině a takto procestoval celou svou zemi. Se svou družinou zavítal i na místo, kde se nyní město Jevíčko nachází. A protože v těch dobách lidé byli nepořádní, neuklízeli po sobě odpadky, všude je nechávali válet, leželo na zemi i víčko. Přemysla Otakara nenapadlo nic jiného než zvolat „Jé, víčko!“. Ostatní pánové si to vyložili tak, že nechali na tomto místě vystavět město Jevíčko.

Takto se traduje, že naše město bylo založeno, avšak pověsti nejsou pravdivé, dokonce se můžeme setkat s různými pověstmi o založení. Pravdou však je, že v roce 1258 bylo Jevíčko povýšeno na královské město právě tímto panovníkem. Také vy si teď vyzkoušíte nějakou pěknou pověst o založení tohoto města vymyslet.

Slova: Přemysl Otakar II., založil, projížděl se, nepořádní, Jevíčko.





## Palackého náměstí

1. Popište tvar náměstí. (popř. okolní ulice se sbíhají do určitého tvaru)
2. Které sochy se nachází na náměstí?
3. Socha TGM má zajímavou historii, vypátrejte, co se se sochou stalo během let 1939 – 1989.
4. Na časovou přímku zakresli, kdy byla postavena kašna.



5. Kde se momentálně nachází dřevěné potrubí, které vedlo vodu do kašny v minulosti?
6. Pokus se odhadnout délku a šířku trávniku okolo sochy svatého Jana Nepomuckého. Poté je změř za pomoci metru a vypočítej obvod a obsah.

Šířka:

Obvod:

Délka:

Obsah:

## Synagoga

1. Zakresli na časovou přímku století vzniku.



2. Jaký účel měla v minulosti?
3. Jaký účel má v současné době?
4. Co se stalo s židovským obyvatelstvem během 2. světové války?
5. Nachází se v Jevíčku židovský hřbitov?

6. Odhadni počet oken na synagoze, pak je spočítej, jejich počet vynásob stem.

Odhad:

Výpočet:

### Komenského náměstí – městská věž

1. Zakresli na časovou přímku století vzniku.



2. Za jakým účelem byla vybudována.
3. Co se stalo se zvony během 2. světové války? (Zachoval se některý z nich?)
4. K čemu slouží nyní?
5. Vypátrej, která známá smyšlená postava má na věži plaketu „Z této věže se svět jeví krásným.“
6. Odhadni, jak široká je základna věže. Změř pomocí metru délku základny věže.

Odhad:

Měření:

### Zámeček

1. Zakresli na časovou přímku století vzniku.



2. Změnila se jeho podoba v průběhu času, jakým způsobem? (Ve kterém století byl přestavěn?)
3. K čemu byla dříve využívána budova?
4. K čemu je využívána budova v dnešní době?
5. Busta (ztvárnění horní poloviny těla) jakého člověka se nachází před budovou zámečku?

6. Odhadni, kolik oken je na zámečku. Spočítej počet oken na čelní straně zámečku (vchod) a vynásob je počtem vikýřů.

Odhad:

Výpočet:

## Gymnázium

1. Zakresli na časovou přímku století vzniku.



2. Kolik let uplynulo od založení gymnázia?
3. Pojmenujte ulici, na které se gymnázium nachází.
4. Které školy dříve sídlily v budově gymnázia?
5. Protéká nyní okolo řeka/potok?
6. Vyhledejte, co je napsáno na pamětní desce u hlavního vchodu do budovy.
7. Odhadni, kolik schodů je u hlavního vchodu do gymnázia, poté je spočítej. Počet schodů vynásob vaším odhadem.

Odhad:

Výpočet:


## Jevíčko

1. Jevíčko leží na pomezí 2 krajů, jak se tyto 2 kraje nazývají?
- a) Pardubický
  - b) Vysočina
  - c) Jihomoravský
  - d) Plzeňský
  - e) Středočeský
  - f) Olomoucký



2. **Jevíčko je centrem oblasti, která se nazývá .....**  
(Tato oblast se táhne od Boskovic k Městečku Trnávka.)
3. **Řeka, která protéká Jevíčkem, se nazývá .....**
4. **Který panovník povýšil Jevíčko na město královské a v kterém století se tomu tak stalo?**  

a) Přemysl Otakar II.	a) 11. století
b) Bořivoj II.	b) 12. století
c) Václav II.	c) 13. století
d) Břetislav II.	d) 14. století
5. **Jevíčko je unikátní svým náměstím. Jak se nazývá geometrický útvar, kterému je náměstí podobné? .....**  
**Tvar zakresli.**
6. **Znáš jméno našeho prvního československého prezidenta, který navštívil Jevíčko?**  
(Jeho socha se nachází na náměstí.)  
.....
7. **Město bylo opevněné hradbami, do města se dalo dostat pouze čtyřmi bránami, podle čeho se nazývaly?**
  - a) Podle světových stran
  - b) Podle starostů
  - c) Podle jmen ulic, u kterých stály
8. **Zakroužkuj znak, který patří městu Jevíčku.**

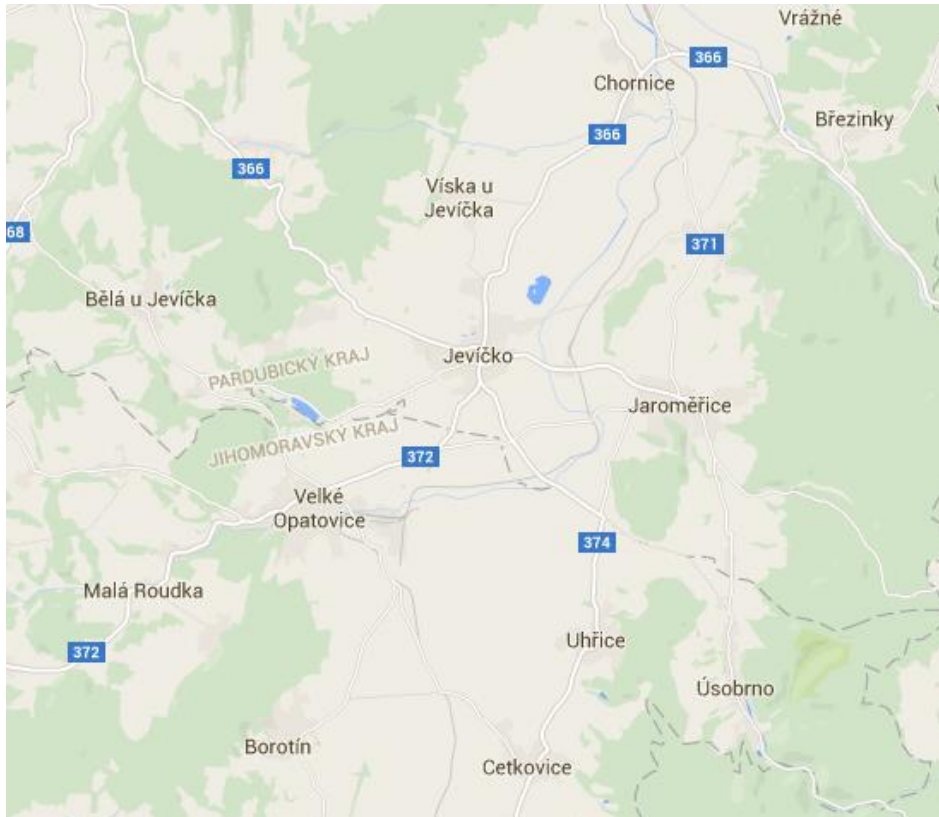


## Pro chytré hlavičky

Kterým městům/vesnicím patří ostatní znaky?

1. ....
2. ....
3. ....
4. ....

Vypiš vesnice, které od Jevíčka leží na sever, jih, východ a západ.



Sever .....

Jih .....

Východ .....

Západ .....